

**1 - CHI HA FONDATO IL QUOTIDIANO "LA REPUBBLICA"?**

- 1) \* Eugenio Scalfari
- 2) Piero Ottone
- 3) Carlo De Benedetti

**2- IN QUALE CITTÀ ITALIANA SI SVOLGE OGNI ANNO LA MOSTRA D'ARTE CINEMATOGRAFICA?**

- 1) \* Venezia
- 2) Viareggio
- 3) Sanremo

**3 - LA COSTITUZIONE ITALIANA RISALE:**

- 1) \* Al 1948
- 2) Al 1946
- 3) Al 1935

**4 - COS'È LA CORTE DI CASSAZIONE?**

- 1) \* Il giudice di ultima istanza
- 2) Il giudice dei giudici
- 3) Il giudice che risolve i conflitti di attribuzione fra i poteri dello Stato

**5 - QUALE DELLE SILLABE INDICATE, ANTEPOSTA AI GRUPPI "MA - DO - TO - RE - LIA" FORMA CINQUE PAROLE DI SENSO COMPIUTO?**

- 1) La
- 2) Sa
- 3) \* Da

**6 - IL CONTRARIO DEL CONTRARIO DELLA PAROLA "ONEROSO" È:**

- 1) Leggero
- 2) Lieve
- 3) \* Gravoso

**7 - COME VENGONO INDICATI I CROMOSOMI SESSUALI NELL'INDIVIDUO DI SESSO MASCHILE?**

- 1) \* XY
- 2) XX
- 3) YY

**8 - QUALE CAVITÀ DEL CUORE UMANO RICEVE IL SANGUE VENOSO?**

- 1) \* L'atrio destro
- 2) Il ventricolo destro
- 3) L'atrio sinistro

**9 - LA GUERRA DI LIBIA FU COMBATTUTA NEL 1911-1912 FRA:**

- 1) \* L'Italia e la Turchia
- 2) L'Italia e l'Abissinia
- 3) L'Italia e l'Eritrea

**10 - QUANDO FU SEQUESTRATO ALDO MORO?**

- 1) \* Il 16 marzo 1978
- 2) Il 5 maggio 1978
- 3) Il 20 ottobre 1981

**11 - SCEGLIERE LA PAROLA O PARTE DI PAROLA CHE POSSA PRECEDERE LE TRE PAROLE DI SEGUITO INDICATE GENERANDO UNA NUOVA PAROLA DI SENSO COMPIUTO: (...) LINO - (...) LAVORO - (...) RALE**

- 1) Mano
- 2) Fana
- 3) \* Capo

**12 - TROVARE IL SINONIMO DELLE SEGUENTI PAROLE: CADUCO - LABILE - FUGGEVOLE - ...**

- 1) \* Effimero
- 2) Passato
- 3) Leggero

**13 - MUCCA STA A VITELLO COME .... STA A PULEDRO**

- 1) \* Cavallo
- 2) Gatto
- 3) Gallina

**14 - QUALE TRA I SEGUENTI VOCABOLI E' SINONIMO DELLA PAROLA "OFFICIOSO"**

- 1) \* Servizievole
- 2) Interessante
- 3) Affettuoso

**15 - TRA I TRE TERMINI INDICATI INDIVIDUARE QUELLO CHE HA QUALCOSA IN COMUNE CON: COATTIVO, OBBLIGATORIO, TEDIOSO:**

- 1) \*Noioso
- 2) Stanco
- 3) Garbato

**16 - SE UN NUMERO È I 5/2 DI UN ALTRO NUMERO E LA LORO DIFFERENZA È 3, QUALI SONO I DUE NUMERI?**

- 1) \* 2 e 5
- 2) 6 e 3
- 3) 4 e 7

**17 - SE "O VALE 1", "B VALE 3", "R VALE 5", "I VALE 7", "S VALE 9", QUANTO VALE "OBBROBRIOSO"?**

- 1) 38
- 2) \* 39
- 3) 40

**18 - LA FRAZIONE "OTTO QUINTI" È PARI A:**

- 1) 0,16
- 2) 0,6
- 3) \* 1,6

**19 - COMPLETA LA SEGUENTE SERIE LETTERALE: A - Z - C - U - E - T - ...**

- 1) \* G
- 2) H
- 3) F

**20 - INDIVIDUARE, SENZA FARE IL CALCOLO, IL RISULTATO APPROSSIMATIVO DELL'OPERAZIONE: 350423 - 21012,685**

- 1) \* Trecentotrentamila
- 2) Trecentotrentacinquemila
- 3) Trecentoquarantamila

**21- ANNA NON DICE IL FALSO SOLO A BRUNO, CHE SOLO A LEI NON DICE IL VERO. CARLA DICE IL VERO MA NON A BRUNO. SE UNO DEI TRE DICE ALL'ALTRO "TI TROVO DAVVERO BENE", CIÒ È ...**

1. vero, se Bruno lo dice a Carla \*
2. falso, se Anna lo dice a Bruno
3. non è possibile stabilire se vero o falso

**22- CORRADO È DISONESTO; CHI È CORROTTO È DISONESTO; BERTO È CORROTTO. QUALE DELLE SEGUENTI AFFERMAZIONI È NECESSARIAMENTE VERA?**

1. Corrado è corrotto
2. Berto e Corrado sono complici
3. Berto è disonesto \*

23- NON TUTTI GLI AMICI DI CARLO SONO BIONDI MA LA MAGGIOR PARTE DI ESSI HA GLI OCCHI AZZURRI E NON HA LA PELLE SCURA. MATTEO È AMICO DI CARLO E QUINDI:

1. Matteo non può avere la pelle scura
2. Matteo non può non avere i capelli biondi
3. Matteo potrebbe non avere gli occhi azzurri \*

24- A È PUGILE, B TENNISTA, C VELISTA, D SCIATORE. OGNUNO AFFRONTA UN ALTRO IN UNO SPORT IN CUI NESSUNO DEI DUE ECCELLE. SE A AFFRONTA B NELLO SCI, MENTRE C AFFRONTA D NEL PUGILATO, IN QUALE SPORT POSSONO SFIDARSI B E C?

1. tennis o sci
2. sci o pugilato \*
3. pugilato o vela

25- QUANDO POTREMO CHIAMARE "IERI" LA GIORNATA DI OGGI, SE L'ALTRO IERI ERA L'INDOMANI DI LUNEDÌ?

1. giovedì
2. venerdì \*
3. sabato

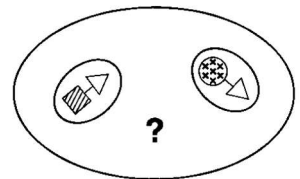
26- TROVA LA FIGURA CHE COMPLETA IN MODO LOGICO LA SEQUENZA NELLA GRIGLIA:

1.  \*
2. 
3. 






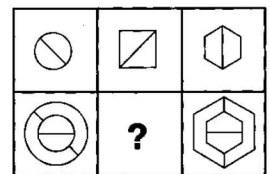
27- TROVA LA FIGURA CON LE STESSA CARATTERISTICHE DELLE DUE FIGURE NELL'OVALE:

1. 
2.  \*
3. 



28- TROVA LA FIGURA CHE COMPLETA IN MODO LOGICO LA SEQUENZA NELLA GRIGLIA:

1.  \*
2. 
3. 



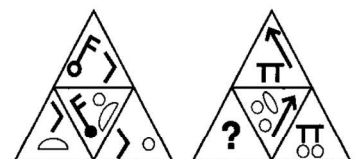
29- TROVA LA FIGURA CHE COMPLETA IN MODO LOGICO LA SEQUENZA NELLA GRIGLIA:

1. 
2. 
3.  \*



30- TROVA LA FIGURA CHE COMPLETA IN MODO LOGICO LA SEQUENZA NELLA GRIGLIA:

1. 
2.  \*
3. 



**31 - QUANDO È ENTRATO IN VIGORE IN ITALIA IL DIVIETO DI FUMARE NEI LOCALI PUBBLICI?**

- 1) \* Nel gennaio 2005
- 2) Nel febbraio 2000
- 3) Nel giugno 2008

**32 - QUALE È IL NOME DI BATTESIMO DI BENEDETTO XVI?**

- 1) \*Joseph
- 2) Oscar
- 3) Mario

**33 - IL PUBBLICO MINISTERO È:**

- 1) \*Un organo dell'accusa
- 2) L'organo che infligge le condanne
- 3) L'organo che gestisce i penitenziari

**34- PER QUANTI ANNI RESTA IN CARICA IL PRESIDENTE DELLA REPUBBLICA?**

- 1)\* 7 anni
- 2) 5 anni
- 3) 6 anni

**35 - QUALE DEI SEGUENTI VOCABOLI È IL CONDIZIONALE PRESENTE DEL VERBO AMARE?**

- 1) \*Amerei
- 2) Amo
- 3) Amerò

**36 - IL SINONIMO DELLA PAROLA "STAGNANTE" È:**

- 1) Fluente
- 2) \*Immobile
- 3) Corrente

**37 - CHE COSA È LA VIA LATTEA?**

- 1) \* La galassia di cui fa parte il nostro sistema solare
- 2) La coda di una cometa
- 3) La nebulosa del granchio

**38 - RITA LEVI MONTALCINI HA OTTENUTO IL PREMIO NOBEL:**

- 1) \* Per studi condotti sulla biologia molecolare
- 2) Per ricerche sulla fisica subatomica
- 3) Per importanti scoperte nel campo della matematica

**39 - SIGMUND FREUD ERA:**

- 1) \*Uno psicanalista
- 2) Un antropologo strutturalista
- 3) Un pedagogo

**40 - ALL'INIZIO DELLA SECONDA GUERRA MONDIALE, L'ITALIA SI DICHIARÒ:**

- 1) \*Neutrale
- 2) Belligerante accanto alla Spagna
- 3) Belligerante accanto alla Francia

**41 - QUALE TRA I SEGUENTI È SINONIMO DELLA PAROLA "ERMETICO"**

- 1) \*Chiuso
- 2) Chiaro
- 3) Uguale

**42 - QUALE DELLE SILLABE INDICATE, ANTEPOSTA AI GRUPPI "SO - NO - TO - VE - POLI" FORMA CINQUE PAROLE DI SENSO COMPIUTO?**

- 1) Di
- 2) Ta
- 3) \* Na

**43 - INSERIRE LA PAROLA DI TRE LETTERE CHE COMPLETI LA PRIMA E FORMI L'INIZIO DELLA SECONDA: CR (...) RE**

- 1) EDO
- 2) ATA
- 3) \*ONO

**44 - SCOLARO STA A MAESTRO COME SOLDATO STA A .....**

- 1) \*Capitano
- 2) Guerra
- 3) Fucile

**45 - TRA I TRE TERMINI INDICATI INDIVIDUARE QUELLO CHE HA QUALCOSA IN COMUNE CON: GIOIELLO, PREZIOSO, MONILE.**

- 1) \* Collana
- 2) Tesoro
- 3) Soldi

**46 - CALCOLARE IL VALORE DI X.     45 : 270 = X : 90**

- 1) \*15
- 2) 30
- 3) 6

**47 - IL NUMERO 1200 RAPPRESENTA I 3/5 DI:**

- 1) \* 2600
- 2) 5800
- 3) 2000

**48 - DOPO AVER COMPRESO LA CHIAVE DI CODIFICA, INDIVIDUARE IL VALORE RICHIESTO. SE SQR VALE 513, QUANTO VALE RQTSU?**

- 1) \*31759
- 2) 31579
- 3) 13759

**49 - SE R VALE 1, A VALE 2, V VALE 3, I VALE 4, E VALE 5, QUANTO VALE "RAVVIVARE"?**

- 1) 22
- 2) 23
- 3) \*24

**50 - COMPLETARE LA SEQUENZA: 1 - 2 - 4 - 12 - 48 - 240 - ?**

- 1) \*1440
- 2) 480
- 3) 1200

**51- CINZIA NON DICE IL FALSO SOLO A ALESSANDRO, CHE SOLO A LEI NON DICE IL VERO. GIADA DICE IL VERO MA NON A ALESSANDRO. SE UNO DEI TRE DICE ALL'ALTRO "TI TROVO DAVVERO BENE", CIÒ È ...**

1. vero, se Alessandro lo dice a Giada \*
2. falso, se Cinzia lo dice a Alessandro
3. non è possibile stabilire se vero o falso

**52- FRANCESCO È DISONESTO; CHI È CORROTTO È DISONESTO; PAOLO È CORROTTO. QUALE DELLE SEGUENTI AFFERMAZIONI È NECESSARIAMENTE VERA?**

1. Francesco è corrotto
2. Paolo e Francesco sono complici
3. Paolo è disonesto \*

**53- NON TUTTI GLI AMICI DI ALESSANDRA HANNO I CAPELLI ROSSI, MA LA MAGGIOR PARTE DI ESSI HA GLI OCCHI AZZURRI E NON HA LA PELLE SCURA. MATTEO È AMICO DI ALESSANDRA E QUINDI:**

1. Matteo non può avere la pelle scura
2. Matteo non può non avere i capelli rossi
3. Matteo potrebbe non avere gli occhi azzurri \*

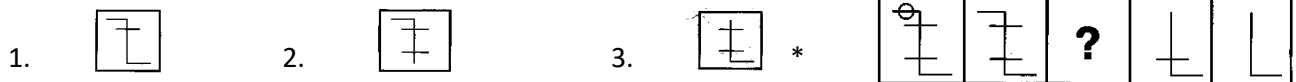
**54- A È CALCIATORE, B TENNISTA, C NUOTATORE, D SCIATORE. OGNUNO AFFRONTA UN ALTRO IN UNO SPORT IN CUI NESSUNO DEI DUE ECCELLE. SE A AFFRONTA B NELLO SCI, MENTRE C AFFRONTA D NEL CALCIO, IN QUALE SPORT POSSONO SFIDARSI B E C?**

1. tennis o sci
2. sci o calcio \*
3. calcio o nuoto

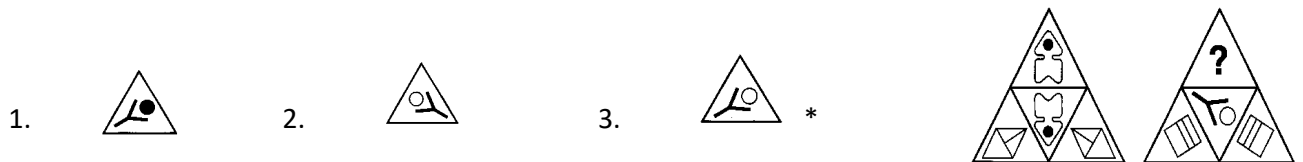
**55- QUANDO POTREMO CHIAMARE "OGGI" LA GIORNATA DELL'ALTRO IERI, SE DOMANI SARÀ IL GIORNO DOPO SABATO?**

1. domenica
2. martedì \*
3. giovedì

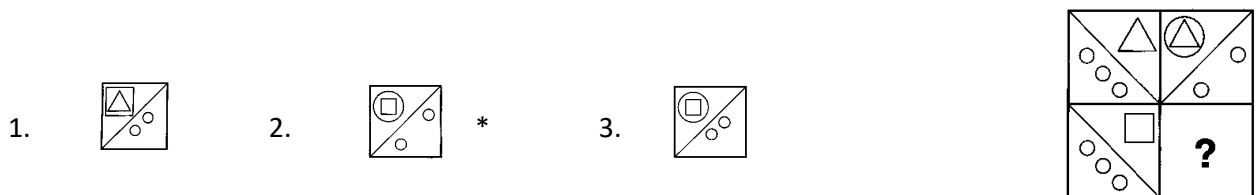
**56 - TROVA LA FIGURA CHE COMPLETA IN MODO LOGICO LA SEQUENZA NELLA GRIGLIA:**



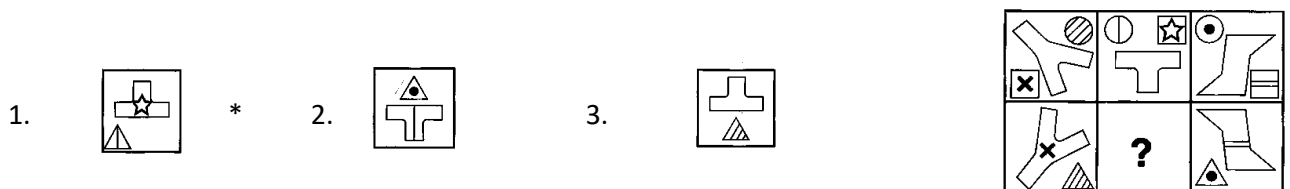
**57 - TROVA LA FIGURA CHE COMPLETA IN MODO LOGICO LA SEQUENZA NELLA GRIGLIA:**



**58 - TROVA LA FIGURA CHE COMPLETA IN MODO LOGICO LA SEQUENZA NELLA GRIGLIA:**



**59 - TROVA LA FIGURA CHE COMPLETA IN MODO LOGICO LA SEQUENZA NELLA GRIGLIA:**



**50 - TROVA LA FIGURA CON LE STESSA CARATTERISTICHE DELLE DUE FIGURE NELL'OVALE:**

